





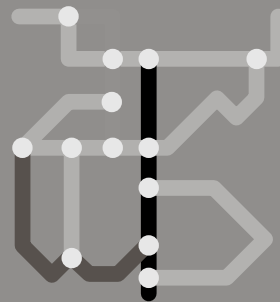

SWH.  macht Schule



Fit im Nahverkehr



Mein Arbeitsheft



Klassen
3 + 4

Fahrplan lesen

Tram 2		Soltauer Straße - Rennbahnkreuz - Marktplatz - Reileck - Am Steintor - Hauptbahnhof - Vogelweide - Südstadt										▲ SWH. HAVAG ➔			
		Montag – Freitag													
Soltauer Straße.....	5.42	5.57	6.12	6.27	Alle	18.12	18.27	18.42	18.57	19.12	19.25
An der Eselsmühle.....	5.46	6.01	6.16	6.31	15	18.16	18.30	18.45	19.00	19.15	19.28
Schwimmhalle.....	5.48	6.03	6.18	6.33	Min	18.18	18.32	18.47	19.02	19.17	19.30
S-Bahnhof Neustadt.....	5.49	6.04	6.19	6.34		18.19	18.33	18.48	19.03	19.18	19.31
Zentrum Neustadt.....	5.50	6.05	6.20	6.35		18.20	18.34	18.49	19.04	19.19	19.32
An der Feuerwache.....	5.51	6.06	6.21	6.36		18.21	18.35	18.50	19.05	19.20	19.33
Rennbahnkreuz.....	5.55	6.10	6.25	6.40		18.25	18.39	18.54	19.09	19.24	19.37
Saline.....	5.57	6.12	6.27	6.42		18.27	18.41	18.56	19.11	19.26	19.39
Hallmarkt.....	5.59	6.14	6.29	6.44		18.29	18.43	18.58	19.13	19.28	19.41
Marktplatz.....	an	6.01	6.16	6.31	6.46		18.31	18.45	19.00	19.15	19.30	19.43
Marktplatz.....	ab	6.01	6.16	6.31	6.46		18.31	18.45	19.00	19.15	19.30	19.43
Reileck.....	6.07	6.22	6.37	6.52		18.37	18.51	19.06	19.21	19.36	19.49
Am Steintor/L.-Wucherer-Straße	6.13	6.28	6.43	6.58		18.43	18.57	19.12	19.27	19.41	19.55
Am Steintor.....	4.29	6.14	6.29	6.44	6.59		18.44	18.58	19.13	19.28	19.42	19.56
Riebeckplatz.....	4.18T	4.32	4.47T	Alle	6.02T	6.17	6.32	6.47	7.02	18.47	19.01	19.16	19.31	19.45	19.59
Hauptbahnhof.....	4.20	4.34	4.49	15	6.04	6.19	6.34	6.49	7.04	18.49	19.03	19.18	19.34	19.47	20.01
Pfännerhöhe.....	4.23	4.37	4.52	Min	6.07	6.22	6.37	6.52	7.07	18.52	19.06	19.21	19.37	19.50	20.04
BG Klinikum Bergmannstrost...	4.27	4.41	4.56		6.11	6.27	6.42	6.57	7.12	18.57	19.10	19.25	19.41	19.54	20.08
Damaschkestraße.....	4.30	4.44	4.59		6.14	6.30	6.45	7.00	7.15	19.00	19.13	19.28	19.44	19.57	20.11
Vogelweide.....	4.33	4.47	5.02		6.17	6.33	6.48	7.03	7.18	19.03	19.16	19.31	19.47	20.00	20.14
Paul-Suhr-Straße.....	4.35	4.49	5.04	Alle	6.19	6.35	6.50	7.05	7.20	Alle	19.05	19.18	19.33	19.49	20.02
Südstadt, Paul-Suhr-Straße.....	4.37	4.51	5.06	15	6.21	6.38	6.53	7.08	7.23	15	19.08	19.20	19.35	19.51	20.04
Südstadt, Veszpremer Straße	4.39	4.53	5.08	Min	6.23	6.40	6.55	7.10	7.25	Min	19.10	19.22	19.37	19.53	20.06
S-Bahnhof Silberhöhe.....
Gustav-Staude-Straße.....
Beesen.....

T von Linie 12 aus Trotha

Wie heißen die beiden Endstellen der Straßenbahnlinie 2?

1)

2)

Fährt die Linie 2 über den Marktplatz?

Wie viele Haltestellen sind es von der Haltestelle „Rennbahnkreuz“ zur Haltestelle „Marktplatz“?

Du fährst 15.35 Uhr an der Haltestelle „Paul-Suhr-Straße“ los.

- Zu welcher Zeit kommst du an der Haltestelle „Südstadt, Veszpremer Straße“ an?
- Wie viele Minuten bist du unterwegs?


a)

b)

Beobachtungen an einer Haltestelle


Geh auf Entdeckungstour! Such dir eine Haltestelle in Halle aus, an der mindestens zwei Bus- oder Straßenbahnlinien fahren. Schau dir die Umgebung genau an und beantworte folgende Fragen in deinem Beobachtungsprotokoll:


Mein Haltestellen-Protokoll	
Name, Vorname:	
Datum meiner Beobachtung:	
Zeit meiner Beobachtung:	von Uhr bis Uhr
Haltestellenname:	<div style="display: flex; align-items: center;"> <div style="margin-right: 10px;">  </div> <hr style="border: 0.5px solid black;"/> </div> <div style="margin-top: 5px;">  </div>
Welche Linien fahren hier?	
Gibt es Fahrpläne an der Haltestelle?	<input type="radio"/> Ja <input type="radio"/> Nein
Gibt es einen Liniennetzplan an der Haltestelle?	<input type="radio"/> Ja <input type="radio"/> Nein
Wie viele Personen stehen mit dir an dieser Haltestelle?	
Gibt es ein Wartehäuschen?	<input type="radio"/> Ja <input type="radio"/> Nein
Gibt es einen Fahrkartenautomaten?	<input type="radio"/> Ja <input type="radio"/> Nein




Plane deine Fahrt

BerTRAM hat für dich vier Ausflugsziele in Halle ausgesucht. Doch wie kommst du mit Bus oder Straßenbahn dort hin? Nutze dafür den Liniennetzplan in deinem Schülerheft (Seite 10/11) und fülle die Tabellen aus! Du startest an der Haltestelle, die deiner Schule am nächsten ist.




Ich fahre von der 


mit der Linie:


Ich steige um an der 

in die Linie:


Ich steige um an der 

in die Linie:




Ich fahre von der 


mit der Linie:




Ich steige um an der 


in die Linie:




Ich steige um an der 

in die Linie:




Ich fahre von der 		mit der Linie:
Ich steige um an der 		in die Linie:
Ich steige um an der 		in die Linie:



Ich fahre von der 		mit der Linie:
Ich steige um an der 		in die Linie:
Ich steige um an der 		in die Linie:

Sammele Fahrkarten

Sammele drei verschiedene Fahrkarten und klebe sie an die Pinnwand!



Kennst du die Fahrpreise?

In der Tabelle sind verschiedene Fahrkartenarten aufgeführt, die in der Stadt Halle (Tarifzone 210) gültig sind. Trage in die Tabelle den jeweiligen Preis der Fahrkarte ein und wie lange diese Fahrkarte gültig ist! BerTRAMs Tipp: Die Informationen findest du im Internet unter www.havag.com.

Fahrkarten-Art	Preis	Wie lange gilt die Fahrkarte?
Schülerferienticket		
Einzelfahrkarte Kind		
4-Fahrten-Karte Kind		
Tageskarte Kind		
SCHOOL Card Azubi		
Wochenkarte		



BerTRAM unterwegs


Schau dir die Bilder in deinem Schülerheft auf Seite 14 an! Wohin ist BerTRAM unterwegs und warum? Nutzt er ein Verkehrsmittel? Trage die Antworten in die Tabelle ein.

Wohin ist BerTRAM unterwegs?	Warum ist BerTRAM unterwegs?	Nutzt BerTRAM ein Verkehrsmittel? Wenn ja, welches?
1.		
2.		
3.		
4.		
5.		
6.		
7.		



Wohin bist du unterwegs?

Was BerTRAM kann, kannst du auch. Überlege dir drei Ziele, zu denen du mit verschiedenen Verkehrsmitteln unterwegs bist. Male dich in die Mitte des Blattes und in die Gedankenblasen deine „Reiseziele“. Schreibe dazu, welches Verkehrsmittel du benutzt.



Verkehrsmittel:






①

②

③

Kennst du die Vor- und Nachteile?

Jedes Verkehrsmittel hat seine Besonderheiten, also auch Vor- und Nachteile. Was kannst du zum Beispiel mit dem Fahrrad machen, was mit Bus, Zug, Straßenbahn und Auto nicht geht? Oder: Welches Verkehrsmittel hat den meisten Platz? Welches ist umweltfreundlich? Welches ist bei Regen ungeeignet? Unterhaltet euch in der Klasse darüber und füllt dann die Tabelle aus!

Verkehrsmittel	Vorteile	Nachteile
		
		
		
		
		

Nahverkehrs-Quiz

Du hast ja schon allerhand gelernt über den Nahverkehr. Mal sehen, ob du BerTRAMs Fragen beantworten kannst. Es ist jeweils nur eine Antwort richtig.

Mein Nahverkehrs-Quiz

Name, Vorname:

1. Was ist ein Liniennetzplan?

- A – das neueste Strickmuster meiner Oma
- B – ein Plan mit den besten Angelplätzen
- C – ein Plan mit allen Bus- und Straßenbahnlinien einer Stadt

Antwort

2. Was sind Schwarzfahrer?

- A – schwarzer Kater, der Skateboard fährt
- B – Leute, die ohne Fahrkarte Straßenbahn fahren
- C – Schornsteinfeger auf dem Fahrrad

Antwort

3. Was bedeutet der Begriff „Tram“?

- A – Titel einer Kindersendung im Fernsehen
- B – Abkürzung für Trampeltiere
- C – internationale Bezeichnung für Straßenbahn

Antwort

4. Wann und wo gilt das Schülerferienticket?

- A – in den Sommerferien in Sachsen-Anhalt
- B – zu Ostern in ganz Deutschland
- C – in allen Ferien im Zoo Halle

Antwort

5. Was kannst du am Fahrkartenautomaten machen?


- A – ein Vanilleeis bestellen
- B – gucken, wann die nächste Straßenbahn kommt
- C – verschiedene Fahrkarten kaufen

Antwort

6. Wo findest du einen Fahrplan?

- A – an jeder Haltestelle
- B – in meinem Mathebuch
- C – jeden Tag in der Zeitung

Antwort



Der Verkehr der Zukunft

Auf Seite 22 in deinem Schülerheft hat BerTRAM ein Fantasie-Bild gemalt, wie er sich den Verkehr in Halle im Jahr 2093 vorstellt. Welche Vorstellungen hast du von der Zukunft des Verkehrs? Hier hast du Platz zum Zeichnen, Bilder aufkleben und schreiben.

BerTRAM wünscht: Viel Spaß dabei!



Wie kaufst du deine Fahrkarte am Automaten?

So ein Fahrkartenautomat ist eine prima Erfindung. Um ihn zu bedienen, ist es besser, wenn du ihn schon mal selbst ausprobiert hast. Deshalb: Geh mit deiner Klasse oder mit deinen Eltern an eine Haltestelle mit einem Fahrkartenautomaten! Schau ihn dir genau an und lass dir die Funktionen erklären! Dann kannst du bestimmt das Automatenprotokoll ausfüllen.

Mein Automaten-Protokoll

Name, Vorname:

Datum meiner Beobachtung:

Standort des Fahrkarten-
automaten (Haltestelle):

Nenne zwei Fahrkarten, die du an dem Automaten kaufen kannst!

1.)

2.)

Wie kannst du an dem Automaten bezahlen?

1.)

2.)

3.)

Welcher ist der erste Schritt, um eine
Fahrkarte zu kaufen?

Zielort wählen


bezahlen

Wo ist an dem Automaten das Ausgabefach
für die Fahrkarte?

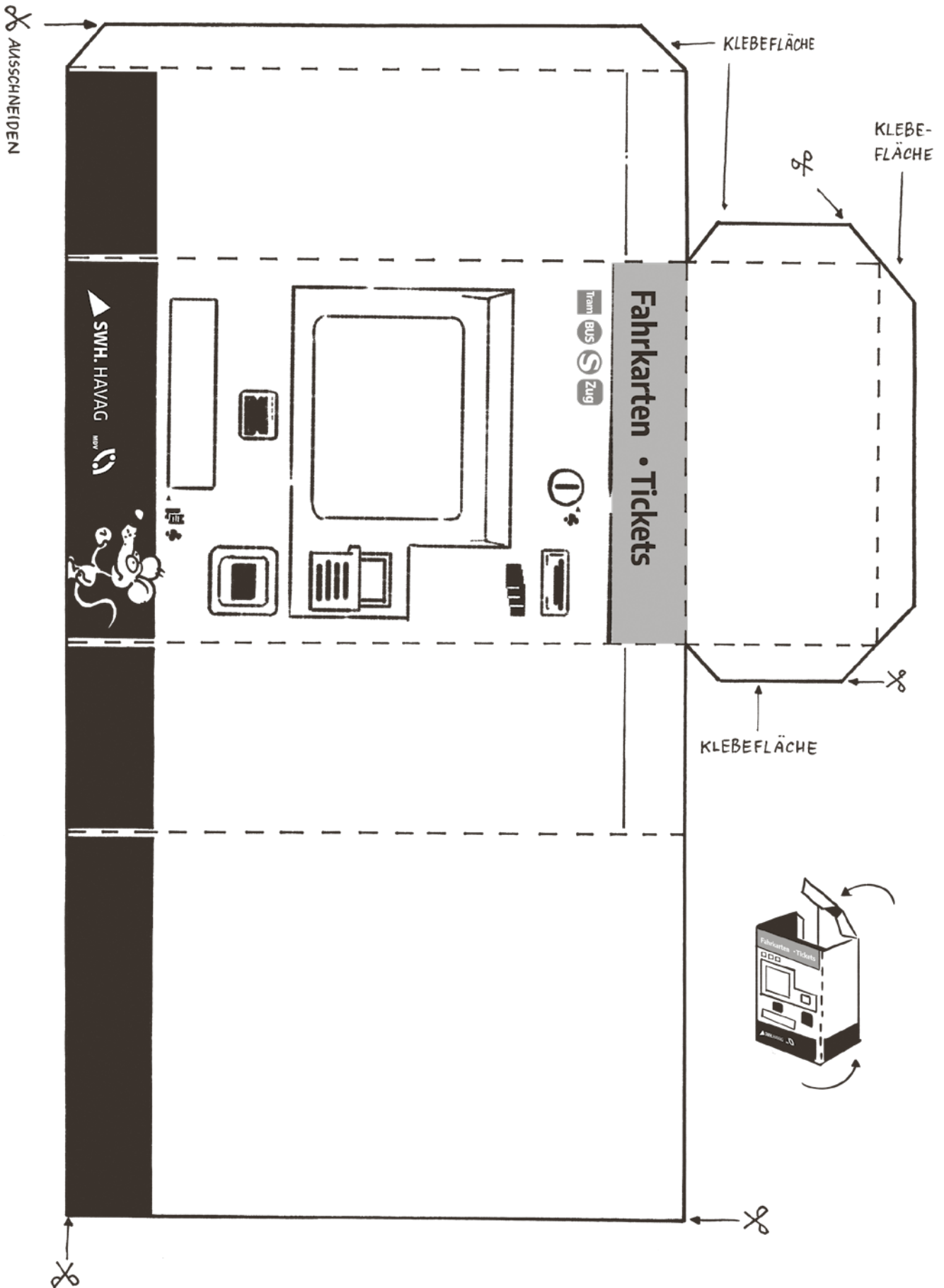
vorn unten

hinten

vorn oben



Dein Fahrkartenautomat zum Basteln





Herausgeber:

Hallesche Verkehrs-AG | Abt. Marketing
Freiimfelder Straße 74 | 06112 Halle (Saale)

Gestaltung:

Agentur KAPPA

2. Auflage 2019

© Copyright HAVAG

Nachdruck oder Vervielfältigung nicht gestattet.